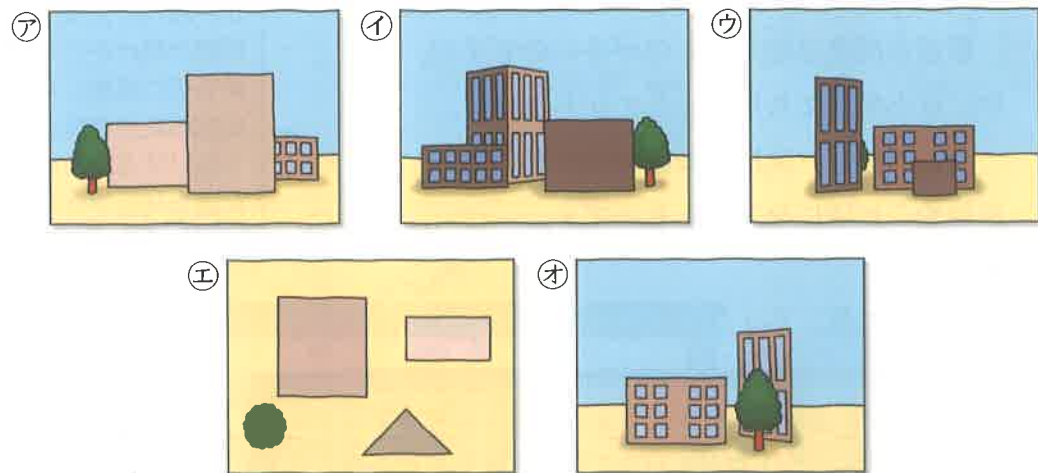





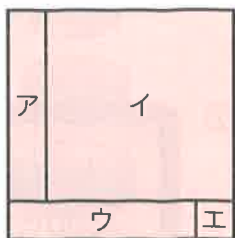
1 どのように見える？

下のア, イ, ウ, エ, オの
写真は、それぞれA, B, C,
D, Eのどこからとった
ものかな。

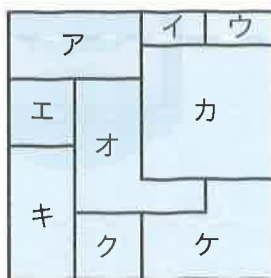


2 重ねた順番は？

① 同じ大きさの正方形を4枚重ねたら、
右のようになりました。
重ねた順を下からいおう。

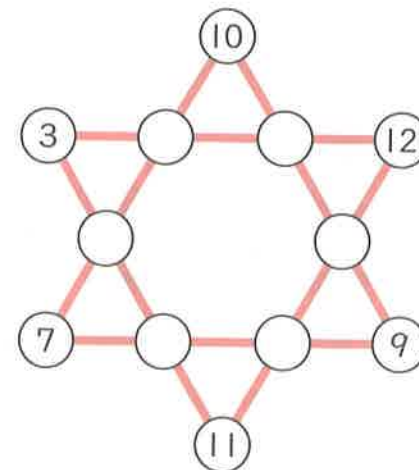


② 同じ大きさの正方形を9枚重ねたら、
右のようになりました。
重ねた順を下からいおう。



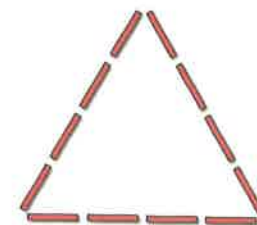
3 数のパズルにちょう戦！

右の○の中に、1から12までの
数を1つずつ入れて、直線上の
4つの数の和がどれも等しく
なるようにしよう。



4 ぼうなら 棒を並べかえる！

① 右のように、12本の棒で作った
正三角形があります。このうちの4本を
動かして、半分の面積にしよう。



② 13本の棒を右のように並べると、
同じ大きさの正方形が4つできます。
では、右と同じ棒を12本使って、
同じ大きさの正方形を4つ作るには、
棒をどのように並べればよいかな。



5 うそつき？ 正直者？

それぞれ、うそつきか正直者の
どちらかです。ねこは、たぬきの
ことを、うそつき、正直者の
どちらといったのかな。

たぬきが正直者だとすると
どうか。また、たぬきが
うそつきだとするとどうか。



たぬき

きつねは正直者。



きつね

ねこはうそつき。



ねこ

たぬきは